



Kuratorium Oświaty
w Szczecinie

Konkurs Geograficzny
dla uczniów szkół podstawowych województwa zachodniopomorskiego
w roku szkolnym 2024/2025

Etap rejonowy

Drogi Uczniu!

Przed przystąpieniem do pracy z testem **zakoduj swoje dane na karcie odpowiedzi** zgodnie z poleceniem komisji konkursowej.

Za chwilę będziesz rozwiązywać test, który składa się z **40 zadań** zamkniętych. Każde zawiera **cztery odpowiedzi**, z których **tylko jedna jest poprawna**. Znajdź ją i zaznacz wyłącznie na załączonej **karcie odpowiedzi**.

W przypadku pomyłki błędną odpowiedź obwiedź kółkiem i zaznacz nową, poprawną. Jeżeli zaznaczysz więcej niż jedną odpowiedź bez wskazania, która jest prawidłowa, to żadna z nich nie będzie uznana.

Pracuj spokojnie i uważnie. W czasie rozwiązywania zadań możesz używać linijki i prostego kalkulatora. Na karcie odpowiedzi nie używaj ołówka, gumki ani korektora. Po zakończeniu pracy sprawdź, czy udzieliłeś wszystkich odpowiedzi.

Na rozwiązanie zadań masz **90 minut**.

Powodzenia!

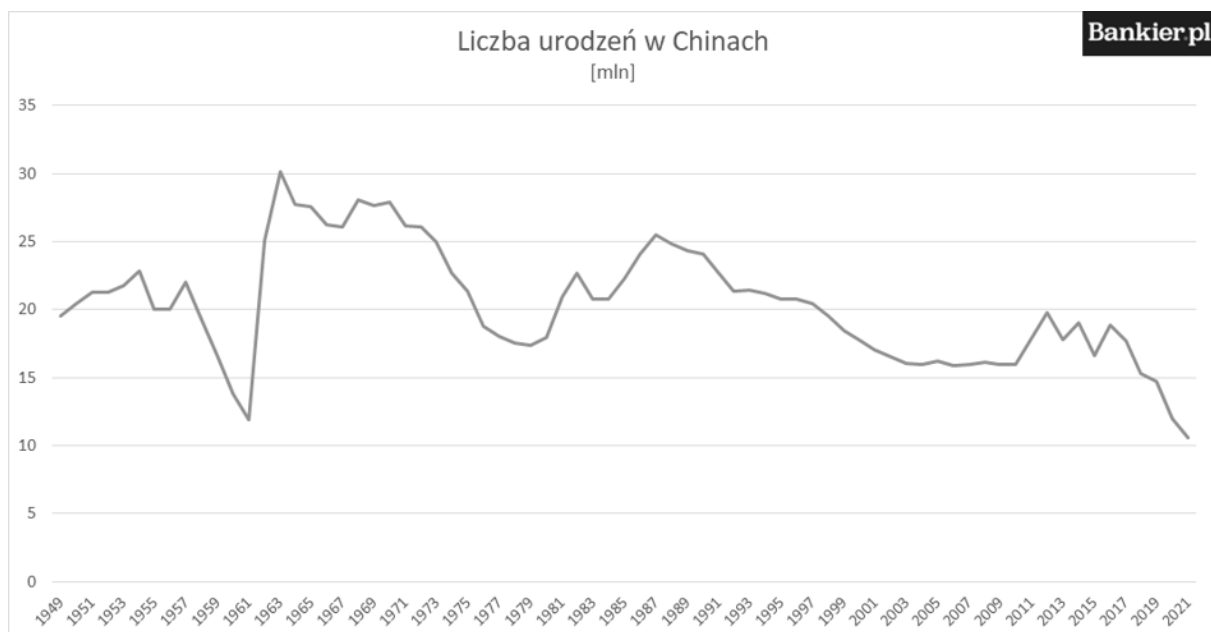
Zadanie 1. (0-1 pkt)



Na zdjęciu przedstawiono charakterystyczną formę geologiczną. Jaką formę terenu przedstawia fotografia?

- A. klif
- B. górę stołową
- C. kanion
- D. ostańce

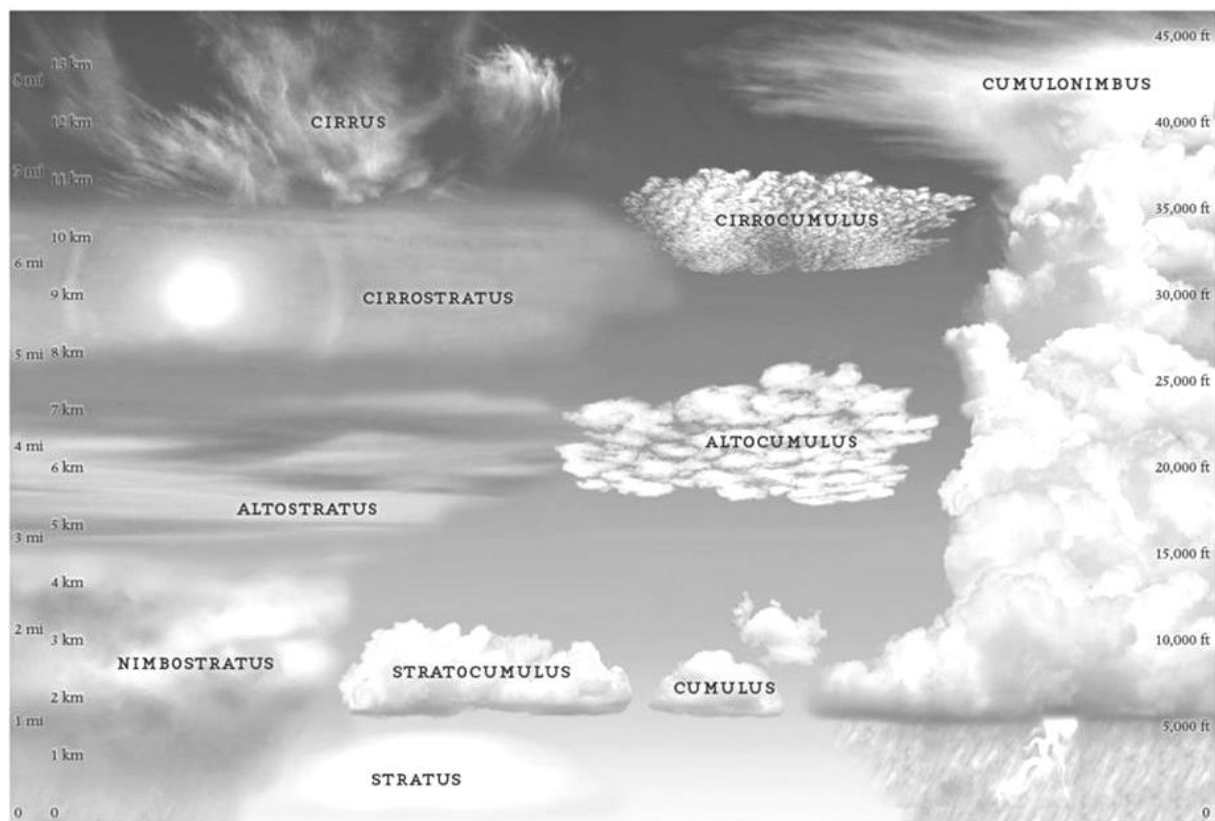
Zadanie 2. (0-1 pkt)



Na podstawie wykresu, odczytaj w którym okresie liczba ludności Chin najszybciej rosła?

- A. 1950-1955
- B. 1960-1963
- C. 1983-1987
- D. 2010-2013

Zadanie 3. (0-1 pkt)



Które z poniższych chmur oznaczają nadciągającą burzę?

- A. Cirrus
- B. Cumulonimbus
- C. Stratus
- D. Altocumulus

Zadanie 4. (0-1 pkt)

Jakie będą różnice czasowe między dwoma miejscowościami, jeśli jedna znajduje się na 30°W, a druga na 60°E?

- A. 3 godziny różnicy
- B. 6 godzin różnicy
- C. 9 godzin różnicy
- D. 12 godzin różnicy

Zadanie 5. (0-1 pkt)



Które z państw Ameryki Południowej nie ma dostępu do morza/oceanu?

- A. Ekwador
- B. Chile
- C. Wenezuela
- D. Paragwaj

Zadanie 6. (0-1 pkt)

Największą powierzchniowo wyspą na świecie jest....

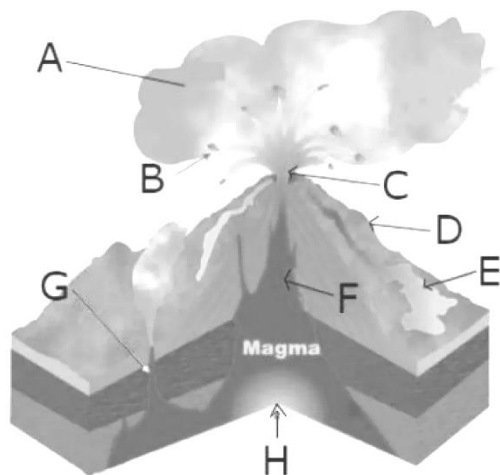
- A. Nowa Gwinea
- B. Borneo
- C. Grenlandia
- D. Madagaskar

Zadanie 7. (0-1 pkt)

Które z poniższych zdjęć przedstawia krajobraz tundry?



Zadanie 8. (0-1 pkt)



Jak nazywa się część wulkanu, z której wypływa lava (na rysunku litera C)?

- A. krater
- B. stożek
- C. komin wulkaniczny
- D. kaldera

Zadanie 9. (0-1 pkt)



Na mapie zaznaczono morze między Europą a Azją. Wybierz z podanych właściwą nazwę tego morza.?

- A. Morze Czarne
- B. Morze Bałtyckie
- C. Morze Śródziemne
- D. Morze Kaspijskie

Zadanie 10. (0-1 pkt)

„Jest to proces mechanicznego, chemicznego lub biochemicznego osadzania się na powierzchni skorupy ziemskiej różnego rodzaju osadów. Mogą to być różnej wielkości okruchy skał i/lub szczątki organiczne. Gromadzący się materiał skalny jest początkowo luźny i sypki lub też miękki i plastyczny.”

Jak nazywa się ten proces osadzania się skał i osadów?

- A) wietrzenie
- B) erozja
- C) sedymentacja
- D) krystalizacja

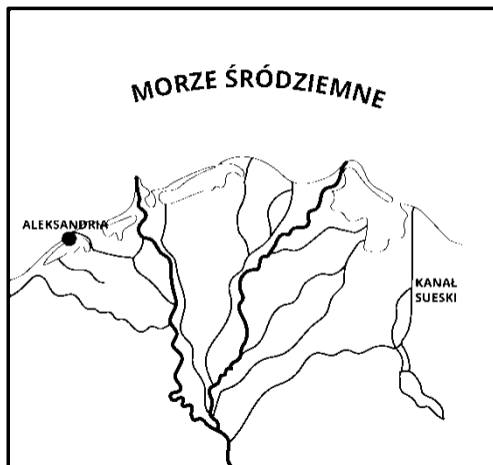
Zadanie 11. (0-1 pkt)

Zdjęcie przedstawia "Kraj Kwitnącej Wiśni". Jaki to kraj?



- A. Chiny
- B. Korea Południowa
- C. Japonia
- D. Tajlandia

Zadanie 12. (0-1 pkt)



Jaką formę terenu przedstawia zdjęcie?

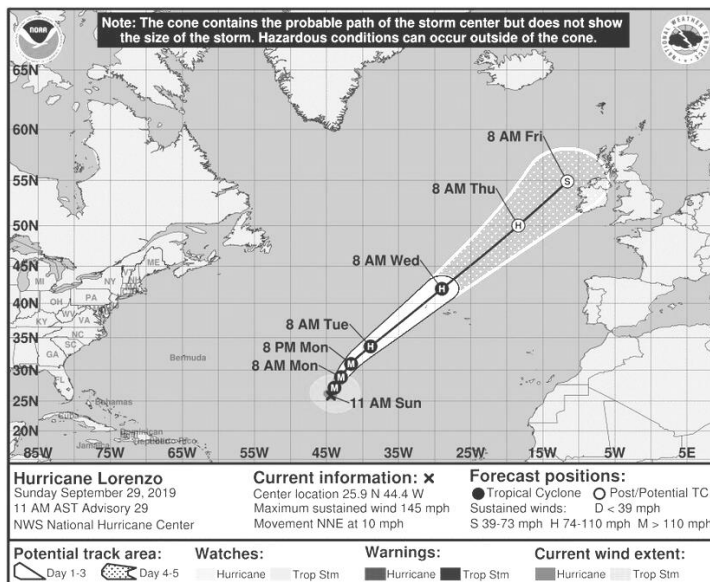
- A. estuarium
- B. delta
- C. przełom
- D. kanion

Zadanie 13. (0-1 pkt)

W rejonie górskim, temperatura na wysokości 1500 m n.p.m. wynosi 10°C. Jaką temperaturę można się spodziewać na wysokości 3000 m n.p.m., zakładając spadek temperatury o 0.6°C na każde 100 m wysokości?

- A. 5°C
- B. 0°C
- C. -5°C
- D. -10°C

Zadanie 14. (0-1 pkt)



W jakim miesiącu zaczyna się sezon huraganowy na Oceanie Atlantyckim?

- A) styczeń
- B) kwiecień
- C) czerwiec
- D) sierpień

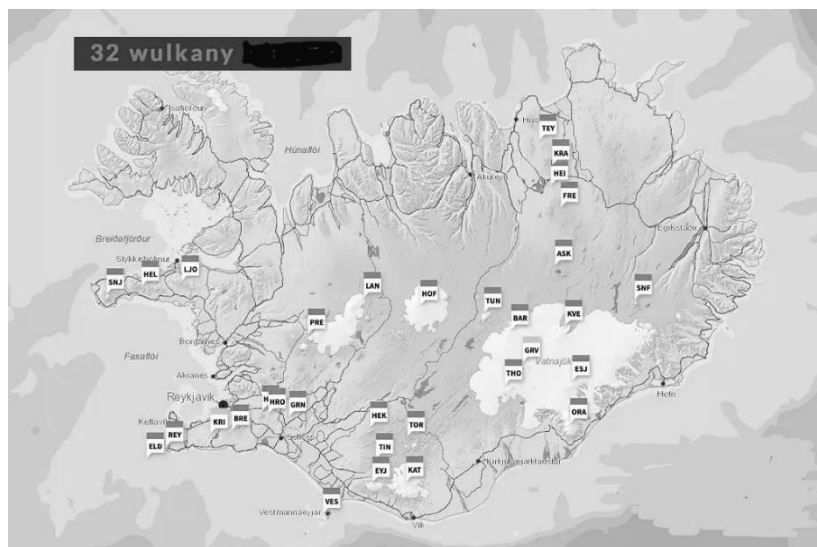
Zadanie 15. (0-1 pkt)

Wskaż park narodowy, którego symbol znajduje się poniżej.



- A) Białowieński Park Narodowy
- B) Słowiński Park Narodowy
- C) Biebrzański Park Narodowy
- D) Wigierski Park Narodowy

Zadanie 16. (0-1 pkt)



Wskaż wśród wymienionych wysp tą, która jest wyspą wulkaniczną?

- A) Islandia
- B) Madagaskar
- C) Australia
- D) Nowa Gwinea

Zadanie 17. (0-1 pkt)



Wskaż miasto w Europie najbardziej wysunięte na północ?

- A. Madryt
- B. Londyn
- C. Sztokholm
- D. Paryż

Zadanie 18. (0-1 pkt)

Która z wymienionych stolic położona jest na zwrotniku Koziorożca?

- A. Kair
- B. Brasilia
- C. Ekwador
- D. Canberra

Zadanie 19. (0-1 pkt)

„Krajobrazy Polski są zróżnicowane. Na jej obszarze przeważają niziny. Na południu występują wyżyny i góry, a na północy leży wiele jezior. W niektórych miejscach, zwłaszcza w parkach narodowych, krajobrazy wciąż mają naturalny charakter i są kształtowane jedynie przez siły przyrody. Jednak większa część krajobrazu w naszym kraju uległa przekształceniu przez człowieka, głównie miasta i pola uprawne.”

Jakiego krajobrazu nie możemy oglądać w Polsce?

- A. górskiego
- B. stepu
- C. morskiego
- D. tundry

Zadanie 20. (0-1 pkt)

Który z wymienionych krajów leży na Półwyspie Skandynawskim?

- A. Dania
- B. Finlandia
- C. Estonia
- D. Wszystkie powyższe

Zadanie 21. (0-1 pkt)

Zdjęcie przedstawia najwyższy wodospad na świecie. Wskaż nazwę tego wodospadu.

- A. Wodospad Niagara
- B. Wodospad Iguacu
- C. Wodospad Angel
- D. Wodospad Victoria



Zadanie 22. (0-1 pkt)

„Wyspa przybrzeżna na Bałtyku na pograniczu Polski i Niemiec, zamykająca od północnego zachodu Zalew Szczeciński. Powierzchnia 445 km², z czego w Polsce około 72 km²; silnie rozczłonkowana, z licznymi półwyspami.”

Opis dotyczy największej wyspy w Polsce. Wskaż jej nazwę.

- A. Uznam
- B. Wolin
- C. Rodos
- D. Krym

Zadanie 23. (0-1 pkt)



Wskaż państwo z największą liczbą aktywnych wulkanów?

- A. Japonia
- B. Indonezja
- C. Meksyk
- D. Chile

Zadanie 24. (0-1 pkt)

Na sawannach można spotkać wiele gatunków zwierząt. Spora część z nich preferuje życie w stadach, co ułatwia im znalezienie pokarmu i przetrwanie. Najbardziej znanym gatunkiem zamieszkującym sawanny jest:

- A. fenek
- B. jaguar
- C. suhak
- D. antylopa



Zadanie 25. (0-1 pkt)

Jakie plemiona zamieszkiwały Amerykę Północną?

- A. Apacze
- B. Indianie
- C. Siuksowie
- D. wszystkie powyższe

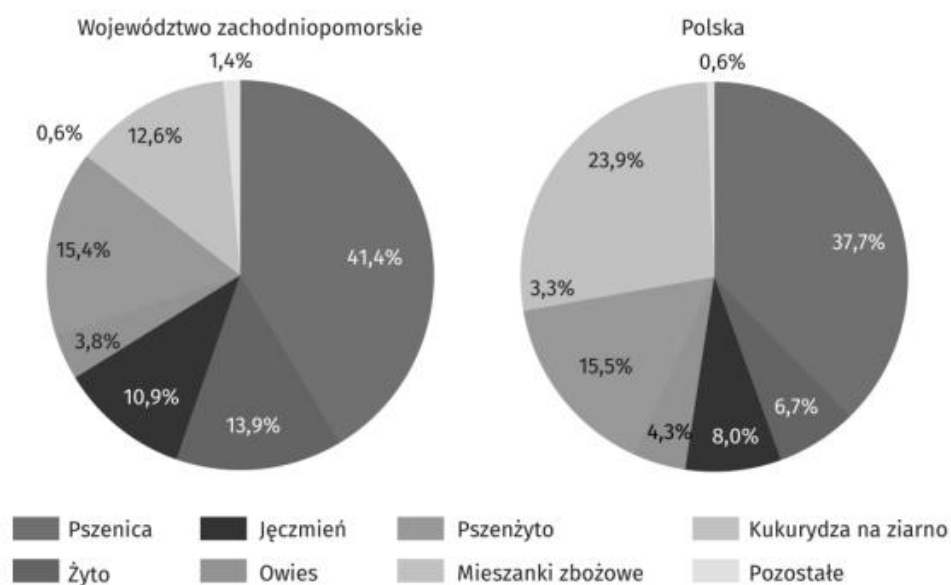
Zadanie 26. (0-1 pkt)

Jeziołem położonym w województwie zachodniopomorskim jest:

- A. Jezioro Myśliborskie
- B. Jezioro Solińskie
- C. Jezioro Czorszyńskie
- D. Jezioro Białe

Zadanie 27. (0-1 pkt)

Struktura zbiorów zbóż w 2022 r.



Na podstawie wykresu wskaż która z poniższych upraw miała największy udział w zbiorach w 2022r. w województwie zachodniopomorskim?

- A. kukurydza
- B. pszenica
- C. jęczmień
- D. owies

Zadanie 28. (0-1 pkt)

Zaćmienie Słońca ma miejsce kiedy:

- A. Ziemia znajduje się między Słońcem a Księżycem
- B. Księżyc znajduje się między Słońcem a Ziemią
- C. Słońce jest w zenicie
- D. Ziemia jest w peryhelium

Zadanie 29. (0-1 pkt)



Fotografia przedstawia renesansowy zabytek Szczecina. Ta siedziba rodu Gryfitów to:

- A. Zamek Książąt Pomorskich
- B. Katedra Wrocławska
- C. Zamek Królewski
- D. Zamek Czocho

Zadanie 30. (0-1 pkt)

Zjawisko powodujące zanieczyszczenie atmosfery to:

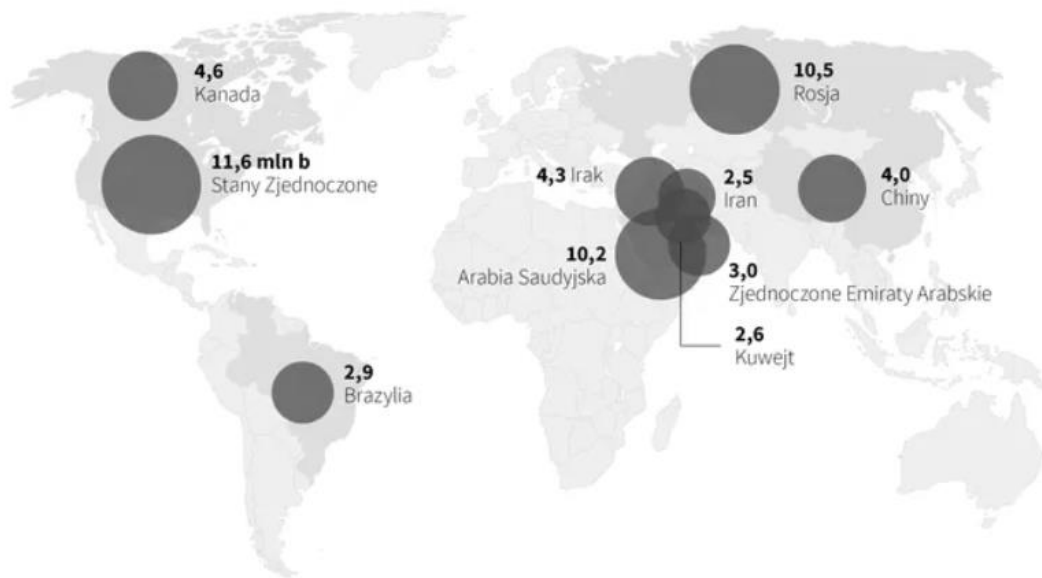
- A. fotosynteza
- B. emisja gazów cieplarnianych
- C. ozon
- D. cykl wody

Zadanie 31. (0-1 pkt)

Produkcja ropy naftowej na świecie

KRAJE, KTÓRE WYDOBYŁY NAJWIĘKSZĄ ILOŚĆ ROPY NAFTOWEJ W 2021 R.

Dane w milionach baryłek dziennie



Źródło: Energy Information Administration



Jednym z największych producentów ropy naftowej na świecie w 2021r. był:

- A. Rosja
- B. Arabia Saudyjska
- C. Kanada
- D. Chiny

Zadanie 32. (0-1 pkt)

Wskaż ruch ciała niebieskiego odpowiedzialnego za występowanie pór roku.

- A. ruch Ziemi wokół Słońca
- B. ruch Księżyca wokół Ziemi
- C. ruch Słońca
- D. ruch planet

Zadanie 33. (0-1 pkt)

O jakim starożytnym mieście w Egipcie można powiedzieć:

„Miasto to przyciąga turystów z całego świata swoją długą historią, pięknymi zabytkami i kulturowym bogactwem. Jest ono domem dla wielu niezwykłych świątyń.”

- A. Sparta
- B. Rzym
- C. Kair
- D. Ateny

Zadanie 34. (0-1 pkt)

Wskaż kontynenty z najwyższym przyrostem naturalnym.

- A. Europa i Ameryka Północna
- B. Ameryka Południowa i Australia
- C. Afryka i Azja
- D. Ameryka północna i Antarktyda

Zadanie 35. (0-1 pkt)

Wysokość względna jest to:

- A. wysokość wzniesienia nad poziomem morza
- B. różnica wysokości mierzona od podstawy do szczytu wzniesienia
- C. wysokość szczytu wzniesienia
- D. różnica odległości mierzona od podstawy do szczytu wzniesienia

Zadanie 36. (0-1 pkt)

Jest on językiem urzędowym w Brazylii, na świecie posługuje się nim ponad 250 mln osób:

- A. hiszpański
- B. francuski
- C. angielski
- D. portugalski

Zadanie 37. (0-1 pkt)

Obecnie ta organizacja zrzesza 193 państwa, założona została w 1945 r. w celu promowania pokoju na świecie.

- A. NATO
- B. ONZ
- C. UE
- D. WHO

Zadanie 38. (0-1 pkt)

Wskaż odkrywcę, który jako pierwszy opłynął świat dookoła.

- A. Vasco da Gama
- B. Krzysztof Kolumb
- C. Ferdynand Magellan
- D. James Cook

Zadanie 39. (0-1 pkt)



Jakie kierunki świata odpowiadają kątom 45° , 135° , 225° i 315° na kompasie?

- A. N, E, S, W
- B. NE, SE, SW, NW
- C. NNE, ESE, SSW, WNW
- D. NW, SW, NE, SE

Zadanie 40. (0-1 pkt)

W tym mieście znajduje się większość instytucji UE i to tam na co dzień odbywa się praca w komisjach i frakcjach politycznych UE. To miasto uznawane jest za stolicę Unii Europejskiej.

- A. Strasburg
- B. Bruksela
- C. Luksemburg
- D. Amsterdam